

## TEXTO 1

### Torcida Organizada



Torcida organizada é a denominação dada a uma associação de torcedores de um determinado clube esportivo no Brasil. A maioria das torcidas brasileiras são uniformizadas, ou seja, seus membros usam roupas com a marca da própria torcida. No Brasil, o precursor das torcidas organizadas foi o *São Paulo Futebol Clube*. Criada em 1939 na Mooca pelo cardeal são-paulino Manoel Raymundo Paes de Almeida com o nome de Grêmio São-Paulino, a TUSP — Torcida Uniformizada do São Paulo — foi a primeira torcida uniformizada do Brasil. A torcida era conhecida por ser muito entusiasmada e por fazer comemorações por conta própria com serpentinas e confetes. Normalmente, as associações dos torcedores organizados adotam um mascote próprio e é a partir daí que ele irá desenvolver diversos produtos com a marca da torcida. Alguns dos clubes esportivos repassam ingressos às suas respectivas torcidas uniformizadas, para que acompanhe os eventos e façam o uso dos ingressos para conseguir lucratividade, isto é, vendem as entradas para outros torcedores com um preço maior.

FONTE: <[http://pt.wikipedia.org/wiki/Torcida\\_organizada](http://pt.wikipedia.org/wiki/Torcida_organizada)>. Acessado em 03 de março de 2014.

**QUESTÃO 1.** Imaginemos que, neste estádio da figura acima, após a partida de futebol foram arrecadados R\$ 40.000,00 nas vendas dos ingressos na bilheteria em notas de R\$ 100,00 e de R\$ 50,00. Quantas notas de cada valor haveria se, no total arrecadado, foram obtidas 600 notas. Qual o sistema de equação representa a situação descrita?

(A) 
$$\begin{cases} x+y=600 \\ 100x+50y=40.000 \end{cases}$$

(C) 
$$\begin{cases} x + y = 40.000 \\ 100x + 50y = 600 \end{cases}$$

(B) 
$$\begin{cases} x + y = 600 \\ x + y = 40.000 \end{cases}$$

(D) 
$$\begin{cases} x + y = 150 \\ 50x + 100y = 40.000 \end{cases}$$

## TEXTO 2



### Pesquisa: maioria de brasileiros associa violência em estádios às organizadas

Uma pesquisa da TNS Sport Brasil realizada em novembro mostra que 84,75% das 8.216 pessoas ouvidas associam a violência nos estádios de futebol às torcidas organizadas. Segundo a coluna 'Panorama Esportivo', do jornal 'O Globo', a cidade de Santos é onde mais pessoas emitiram esta opinião: 95,35%.

Florianópolis é a segunda colocada, com 92,37%.

Ficou em terceiro Curitiba, onde no último domingo ocorreu o vandalismo no Couto Pereira após o jogo entre Coritiba e Fluminense (veja imagens da pancadaria). Na capital paranaense, 91,75% das pessoas fizeram esta associação.

Na mesma pesquisa, foi feita a seguinte pergunta: "Se as torcidas organizadas fossem banidas do futebol, o torcedor iria assistir aos jogos nos estádios?" A resposta sim foi escolhida por 61% dos entrevistados.

Fonte: <<http://globoesporte.globo.com/Esportes/Noticias/Futebol/0,,MUL1412804-9825,00.html>>. Acessado em 03 de março de 2014.

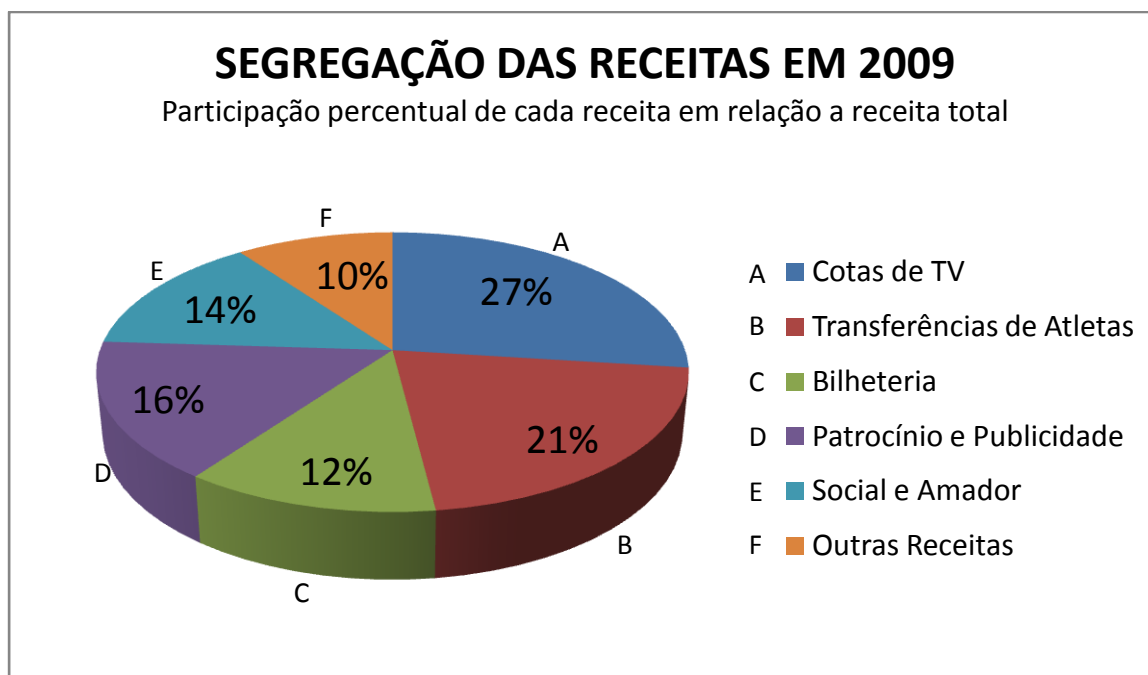
**QUESTÃO 2.** Na situação da pesquisa descrita acima, qual é a representação fracionária do percentual 84,75%?

(A)  $\frac{84}{75}$  (C)  $\frac{8475}{1000}$

(B)  $\frac{8475}{10000}$  (D)  $\frac{8475}{100}$

**Você sabia?**

**Receita** é a entrada monetária que ocorre em uma entidade (Contabilidade) ou patrimônio (Economia), em geral, sob a forma de *dinheiro* ou de créditos representativos de direitos. Nas empresas privadas, a receita corresponde, normalmente, ao produto de venda de *bens* ou *serviços* (chamado no Brasil de faturamento).



Fonte: <[http://pt.wikipedia.org/wiki/Receita\\_\(economia\)](http://pt.wikipedia.org/wiki/Receita_(economia))>. Acesso em 03 de março de 2014

O gráfico acima mostra o percentual de arrecadação de uma torcida organizada e traz a receita, em percentual, da distribuição do dinheiro para os setores que estão inseridos no seu contexto.

Fonte: <[globoesporte.globo.com/platb/olharcronicoesportivo/2010/07/15/receitas-e-custos-do-futebol-brasileiro---parte-i/](http://globoesporte.globo.com/platb/olharcronicoesportivo/2010/07/15/receitas-e-custos-do-futebol-brasileiro---parte-i/)>. Acesso em 03 de março de 2014.

**QUESTÃO 3.** Observando as informações do gráfico, qual tabela representa estes percentuais, sabendo-se que a receita total deste gráfico é de R\$ 8.000.000,00?

(A)

Social Amador	R\$1.100.000
Outras Receitas	R\$80.000
Cotas de TV	R\$ 1.160.000
Transferências de Atletas	R\$1.580.000
Bilheteria	R\$ 760.000
Patrocínio e Publicidade	R\$1.580.000

(B)

Social Amador	R\$1.000.000
Outras Receitas	R\$ 820.000
Cotas de TV	R\$ 2.150.000
Transferências de atletas	R\$1.640.000
Bilheteria	R\$860.000
Patrocínio e Publicidade	R\$1.200.000

(C)

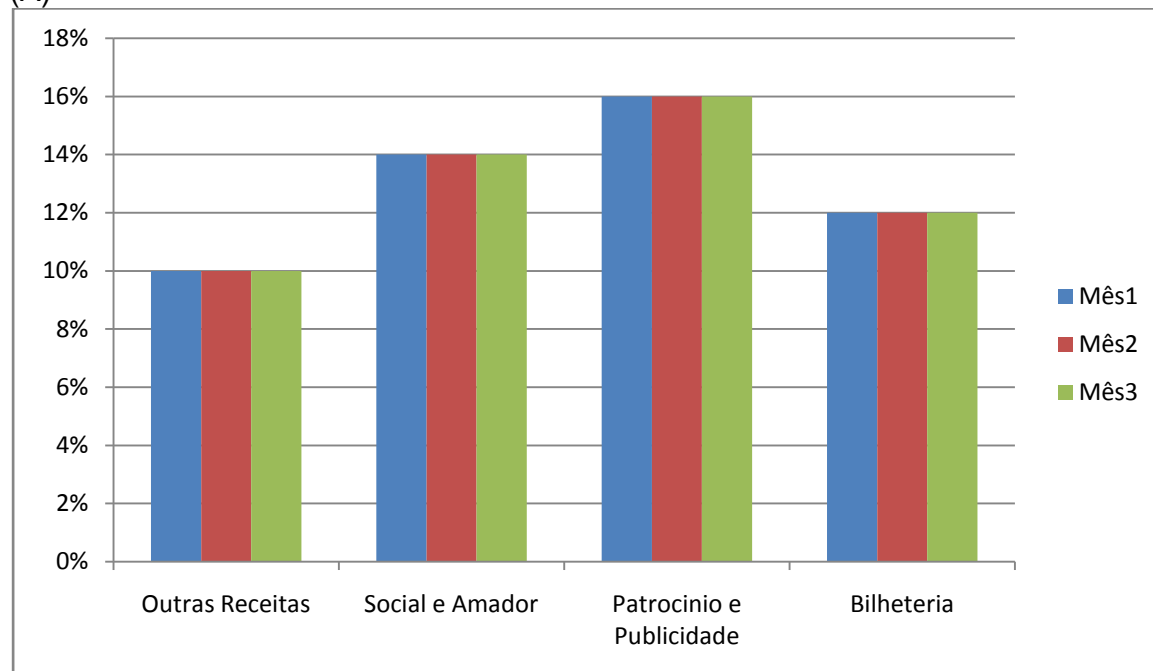
Social Amador	R\$1.800.000
Outras Receitas	R\$ 200.000
Cotas de TV	R\$ 3.160.000
Transferências de atletas	R\$1.380.000
Bilheteria	R\$660.000
Patrocínio e Publicidade	R\$1.080.000

(D)

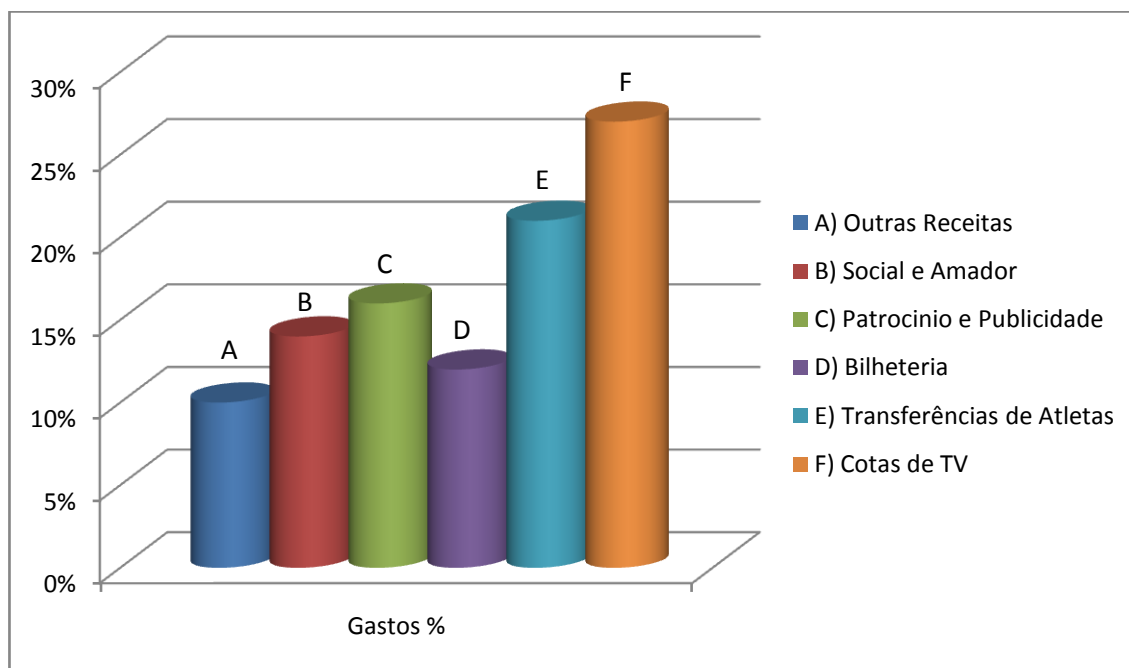
Social Amador	R\$1.120.000
Outras Receitas	R\$ 800.000
Cotas de TV	R\$ 2.160.000
Transferências de atletas	R\$1.680.000
Bilheteria	R\$960.000
Patrocínio e Publicidade	R\$1.280.000

**QUESTÃO 4.** Trabalhando ainda com as informações do gráfico de pizza da questão 3, marque a representação em Barra ou Coluna que também apresenta estes percentuais.

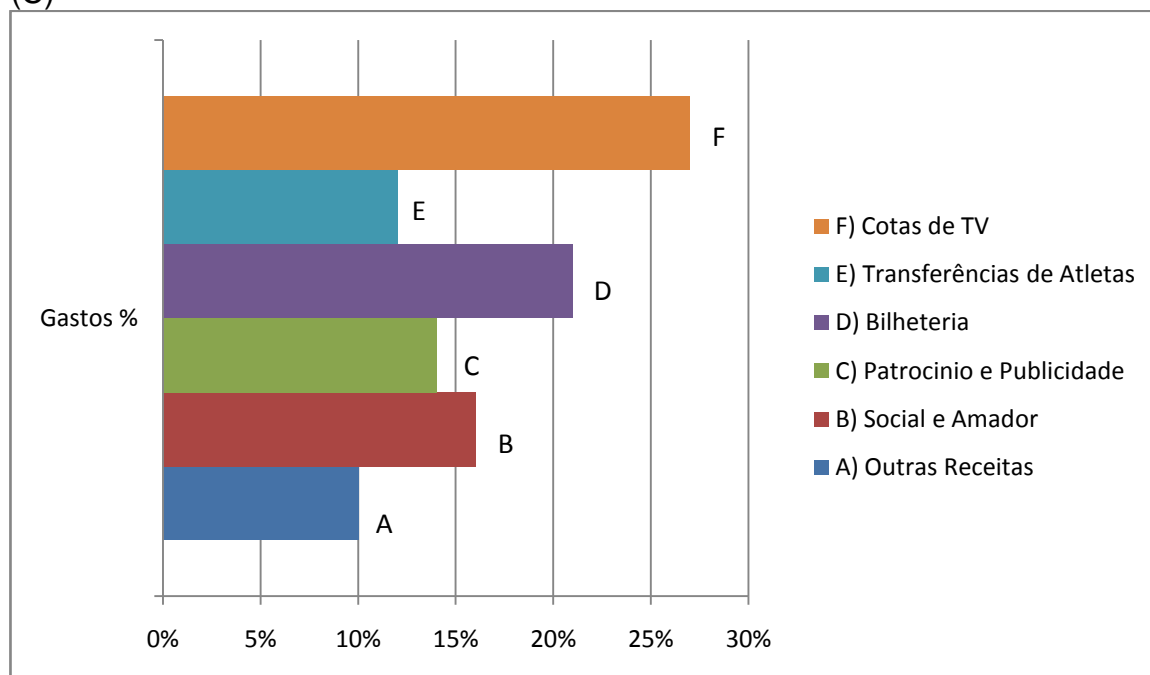
(A)



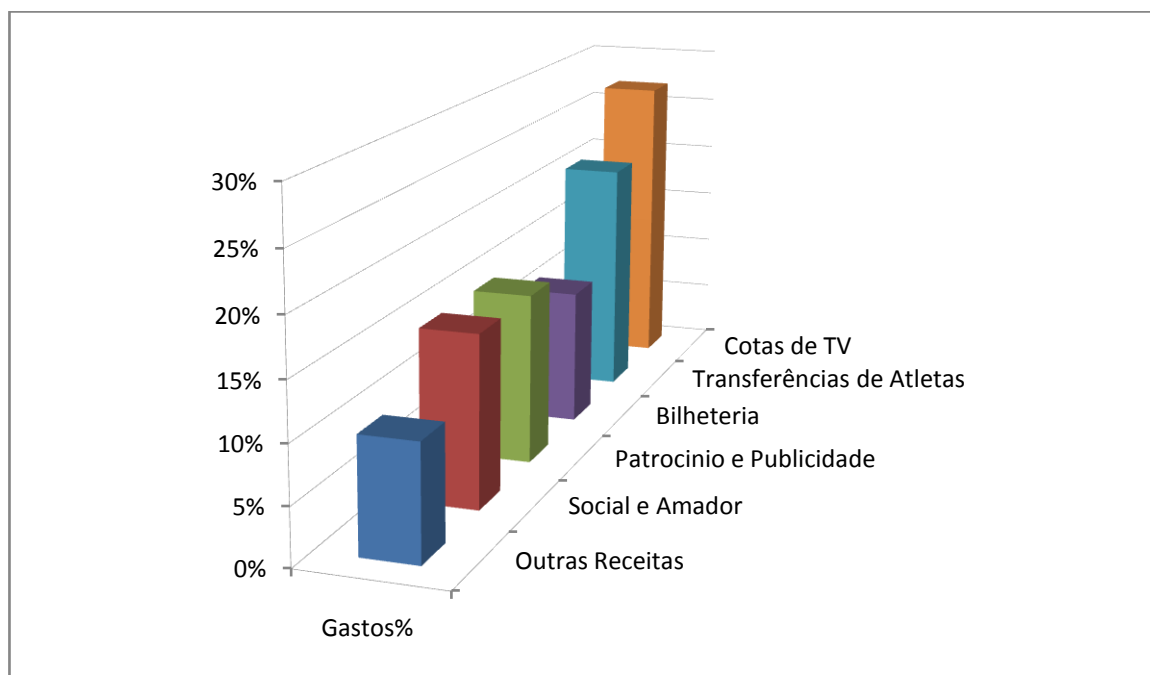
(B)



(C)



(D)



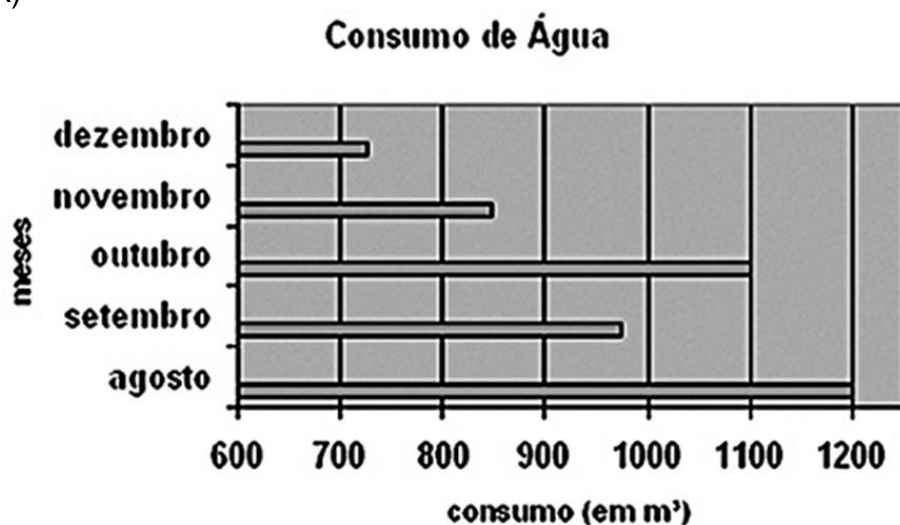
### ITEM DA PROVA BRASIL

A tabela a seguir apresenta o consumo de água, em  $m^3$ , em uma escola durante cinco meses.

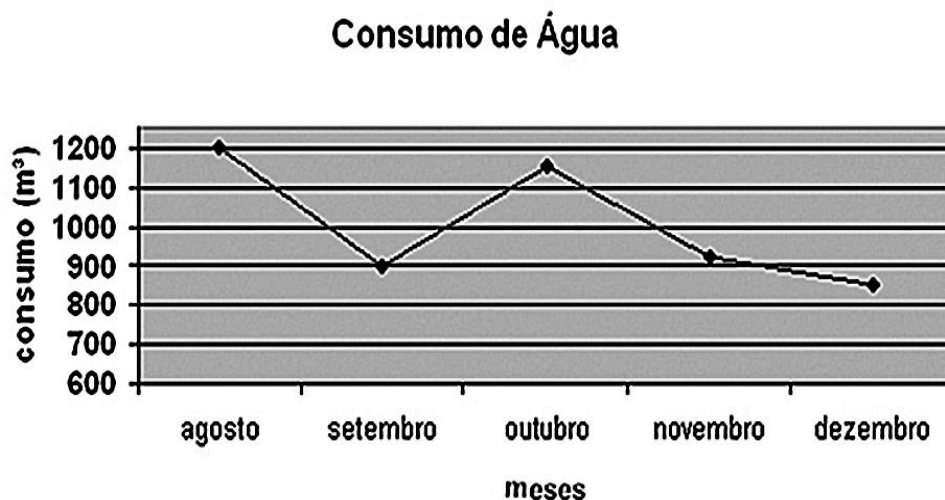
Período (2006)	Consumo ( $m^3$ )
agosto	1200
setembro	975
outubro	1100
novembro	850
dezembro	725

Esses dados podem ser representados pelo gráfico

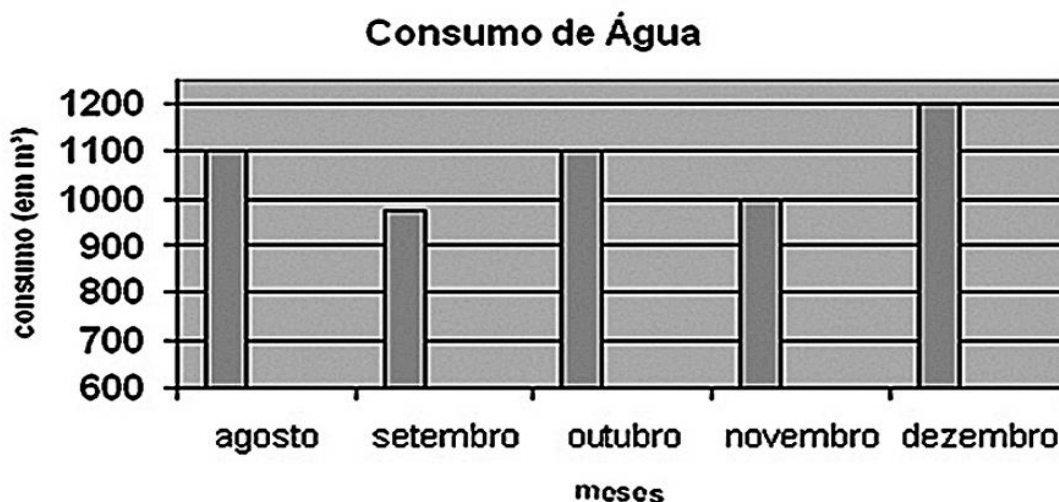
(A)



(B)

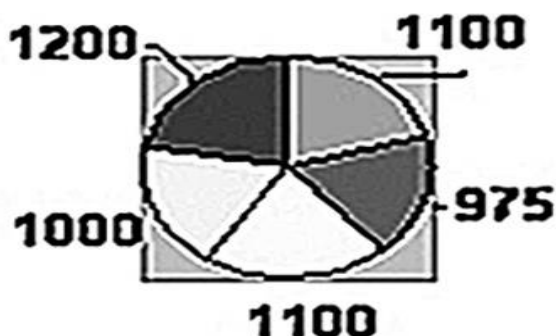


(C)



(D)

Consumo de água (m<sup>3</sup>)



Fonte: <[http://portal.mec.gov.br/dmdocuments/prova%20brasil\\_matriz2.pdf](http://portal.mec.gov.br/dmdocuments/prova%20brasil_matriz2.pdf)>. Acesso em 03 de março de 2014.

### TEXTO 3

#### Após briga entre torcidas, Dilma defende polícia dentro dos estádios.

Segundo presidente, agressões entre Atlético-PR e Vasco são 'chocantes'. Para ela, o país do futebol não pode conviver com violência nos estádios.

A presidente **Dilma Rousseff** condenou nesta segunda-feira (9) as cenas de violência que marcaram o jogo entre Atlético Paranaense e Vasco, no último domingo (8). Em sua conta pessoal no micro blog **Twitter**, a chefe do Executivo afirmou que conversou com o ministro dos Esportes, Aldo Rebelo, para assegurar a presença da polícia dentro dos estádios de futebol e propôs outras medidas para inibir ações violentas de torcidas organizadas.

"Conversei com o ministro Aldo Rebelo, que acompanha o caso. É necessária a presença da polícia nos estádios, a prisão em flagrante em caso de violência e a criação de uma delegacia do torcedor para que cenas como a de ontem sejam coibidas", escreveu a presidente na rede social.

Na avaliação de Dilma, não é possível mais o país conviver com a violência nos estádios brasileiros. "São chocantes as cenas de brigas entre torcedores no jogo Atlético-PR x Vasco. Esta violência vai contra tudo o que acreditamos ser o futebol, um esporte de paixão, mas também de tolerância. #PazNosEstádios O país do futebol não pode mais conviver com a violência nos estádios. "#PazNosEstádios", enfatizou Dilma.

FONTE: <<http://g1.globo.com/sc/santa-catarina/noticia/2013/12/o-pais-do-futebol-nao-pode-conviver-com-violencia-nos-estadios-diz-dilma.html>>. Acesso em 03 de março de 2014. (Adaptado)

#### CURIOSIDADES

##### Violência das torcidas organizadas brasileiras

De acordo com uma pesquisa realizada em 1994, o promotor de Justiça Fernando Capez apurou que 15% dos integrantes das torcidas organizadas tinham antecedentes criminais. Segundo o sociólogo Maurício Murad, a porcentagem de torcedores violentos é de 5% a 7% e é difícil calcular quanto são os "brigões" dentro das torcidas organizadas, pois o Governo Federal não tem os números de torcedores organizados no país.

FONTE: <[http://pt.wikipedia.org/wiki/Viol%C3%Aancia\\_no\\_futebol](http://pt.wikipedia.org/wiki/Viol%C3%Aancia_no_futebol)>. Acesso em 03 de março de 2014.

## QUESTÃO DISCURSIVA

Lendo este fragmento atual sobre a opinião da Presidenta Dilma em relação à violência nos estádios de futebol, podemos fazer também uma leitura crítica. Preencha o quadro abaixo com valores que você considera viáveis para um orçamento em gastos financeiros, em percentuais que, na sua concepção, diminua a violência. Além disso, opine sobre esta situação de forma crítica e construtiva, produzindo assim um texto coerente e criativo, utilizando as informações contidas nesta produção como todo.

<b>Ações de Investimentos</b>	<b>Percentuais</b>
Campanhas Publicitárias	
Projetos Educacionais	
Policiamento nos Estádios	
Implantação de Identificação digital em todos os estádios de Futebol	

---

---

---

---

---



## ANEXO

### GABARITO

QUESTÃO	GABARITO	DESCRITOR
1	A	-
2	B	-
3	D	-
4	B	-
ITEM PB	A	D37